

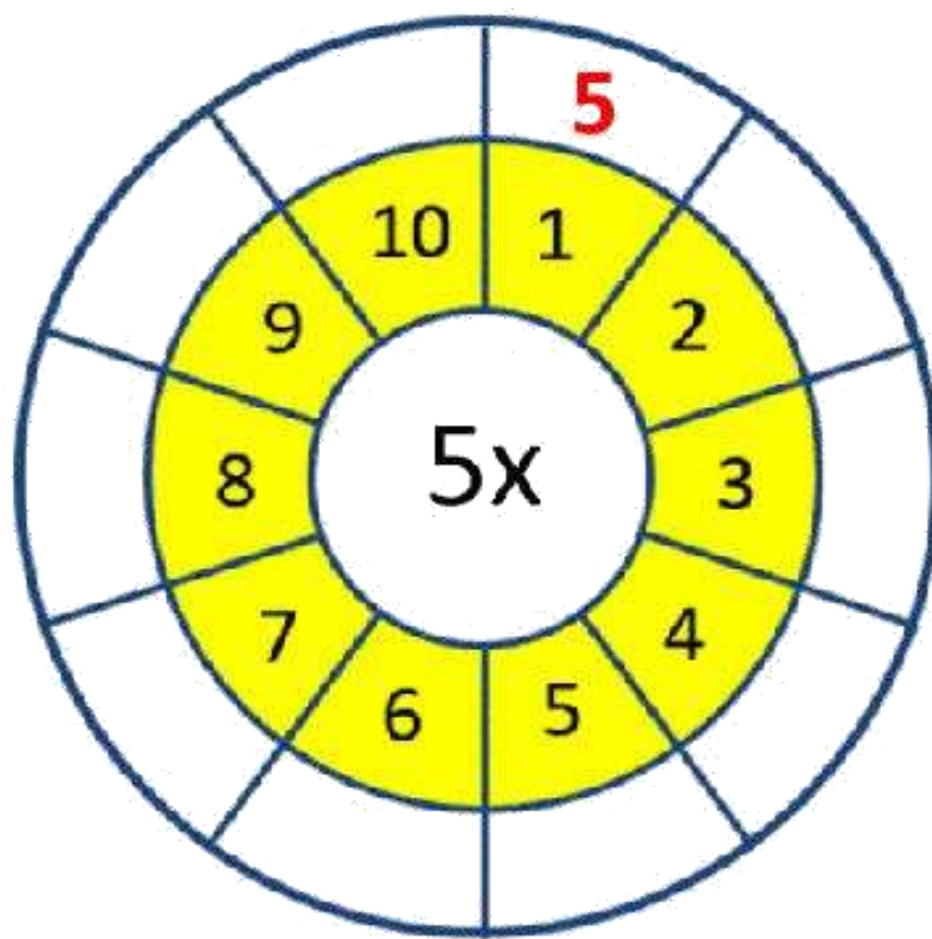
TUẦN 20

Kiến thức trọng tâm

- Bảng nhân 5.
- Phép chia.



Bảng nhân 5



Sau khi tính và điền kết quả vào ô trống theo mẫu, em hãy tô màu theo ý thích nhé!

Bài 1: Viết số thích hợp vào chỗ chấm

Thư viện tiểu học - Ươm mầm tương lai

**Bài 2:** Em hãy tính và ghi kết quả đúng vào mỗi hộp quà để giúp các bạn nhỏ nhận được quà nhé!



**Bài 3:** Số ?

$5 \times \square = 20$

$2 \times \square = 10 + 8$

$5 \times \square = 45$

$2 \times \square = 25 - 9$

$5 \times \square = 30$

$5 \times \square = 10 + 15$

**Bài 4:** Viết số thích hợp vào chỗ chấm:

a. 10; 15; 20; ...; ...; ...; 40.

b. 50; 45; 40; ...; ...; ...; 20.

**Bài 5:** Mỗi can đựng 5 l dầu. Hỏi 7 can như thế đựng tất cả bao nhiêu lít dầu?

**Bài giải**

.....

.....

.....

**Bài 6:** Số ?



**Bài 7:** Năm nay An 5 tuổi. Tuổi của mẹ An bằng tuổi An nhân với 6, tuổi của bố bằng tuổi An nhân với 7. Tổng số tuổi của ba người gia đình An hiện nay là  tuổi.



# Phép chia

## Bài 1: Số ?

$5 \times 7 = \square$

$\square : 5 = 7$

$35 : \square = 5$

$3 \times 9 = 27$

$\square : 3 = 9$

$27 : \square = 3$

$6 \times 8 = 48$

$\square : 6 = 8$

$48 : \square = 6$

$8 \times 4 = 32$

$\square : 4 = 8$

$32 : \square = 4$

Thư viện tiểu học - Văn minh tương lai



## Bài 2: Với mỗi phép nhân, viết hai phép chia (theo mẫu).

Mẫu:  $5 \times 3 = 15$

$15 : 5 = 3$

$15 : 3 = 5$

$4 \times 6 = 24$

.....

.....

$7 \times 3 = 21$

.....

.....

$5 \times 6 = \dots$

.....

.....

$5 \times 4 = \dots$

.....

.....

$5 \times 8 = \dots$

.....

.....

## Bài 3: Tính.

$2\text{cm} \times 9 = \dots\dots$

$5\text{cm} \times 8 = \dots\dots$

$2\text{kg} \times 6 = \dots\dots$

$14\text{cm} : 2 = \dots\dots$

$35\text{cm} : 5 = \dots$

$16\text{cm} : 2 = \dots\dots$

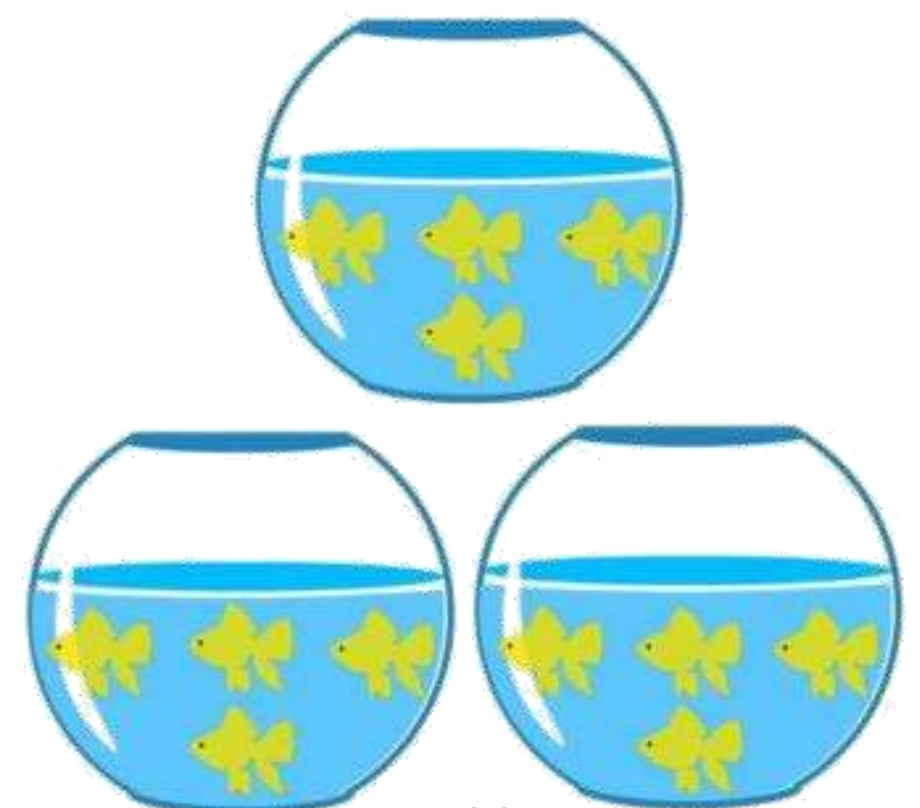
**Bài 4:** Có 12 con cá được chia đều vào 3 cái bình. Hỏi mỗi bình có bao nhiêu con cá?

### Bài giải

Mỗi bình có số con cá là:

$\square : \square = \square \text{ (con)}$

Đáp số:  $\square$  con cá.



**Bài 5:** Có 8 quả táo được chia đều vào 2 túi. Hỏi mỗi túi có bao nhiêu quả táo?

*Bài giải*

Mỗi túi có số quả táo là:

$$\square : \square = \square \text{ (quả)}$$

Đáp số:  $\square$  quả táo.



**Bài 6:** Có 40 học sinh xếp thành 5 hàng bằng nhau. Hỏi mỗi hàng có mấy học sinh?

*Bài giải*

Mỗi hàng có số học sinh là:

$$\square : \square = \square \text{ (học sinh)}$$

Đáp số:  $\square$  học sinh.



**Bài 7:** Mẹ có một số bánh. Số bánh đó mẹ chia đều vào 6 hộp thì mỗi hộp có 5 cái. Hỏi:

- a. Mẹ có tất cả bao nhiêu cái bánh?
- b. Nếu số bánh đó mẹ chia đều vào 3 hộp thì mỗi hộp có bao nhiêu cái bánh?



*Bài giải*

.....

.....

.....

.....

.....



# BÀI TẬP TỰ LUYỆN CUỐI TUẦN 20



## I. TRẮC NGHIỆM

### 1 Khoanh vào đáp án đúng

- Kết quả phép nhân  $5 \times 6$  là:  
A. 1                      B. 11                      C. 30                      D. 25
- Tích nào dưới đây có kết quả nhỏ nhất?  
A.  $2 \times 10$               B.  $5 \times 3$                       C.  $2 \times 9$                       D.  $2 \times 5$
- $5 \times \dots = 45$ . Số thích hợp điền vào chỗ chấm là:  
A. 6                      B. 7                      C. 8                      D. 9
- Số thứ bảy của dãy số 0; 5; 10; 15;.....là:  
A. 20                      B. 25                      C. 30                      D. 35
- Có 15 chiếc kẹo, chia đều cho 3 bạn. Ta có phép chia:  
A.  $15 : 5 = 3$   
B.  $15 : 3 = 5$   
C.  $3 \times 5 = 15$   
D.  $5 \times 3 = 15$
- Hai số có tích bằng 10 và hiệu bằng 3. Hai số đó là:  
A. 5 và 3                      B. 5 và 2                      C. 7 và 3                      D. 8 và 5



### 3 Nhện trắng đang đi tìm ngôi nhà chứa kết quả đúng. Bạn giúp nhện trắng tìm đúng nhà nhé.



Lớp 2A có 9 học sinh. Mỗi học sinh được thưởng 5 quyển vở. Hỏi cô giáo cần mua bao nhiêu vở?



Mỗi giờ mẹ làm được 5 cái bánh. Hỏi trong 4 giờ mẹ làm được mấy cái bánh?



Mỗi ngày Hoa đọc được 5 trang sách. Hỏi 1 tuần Hoa đọc được bao nhiêu trang sách?



Mỗi hàng xếp 5 học sinh. Hỏi 6 hàng như vậy có tất cả bao nhiêu học sinh?





## II. TỰ LUẬN

**Bài 1:** Từ một phép nhân, em hãy viết hai phép chia thích hợp.

$2 \times 5 = \dots$

.....  
.....

$5 \times 7 = \dots$

.....  
.....

$5 \times 9 = \dots$

.....  
.....

$3 \times 2 = \dots$

.....  
.....

$5 \times 2 = \dots$

.....  
.....

$5 \times 8 = \dots$

.....  
.....

**Bài 2:** Điền dấu (> ; < ; =) thích hợp vào chỗ trống.

$5 \times 2 \square 2 \times 5$

.....

$2 \times 7 \square 5 \times 3$

.....

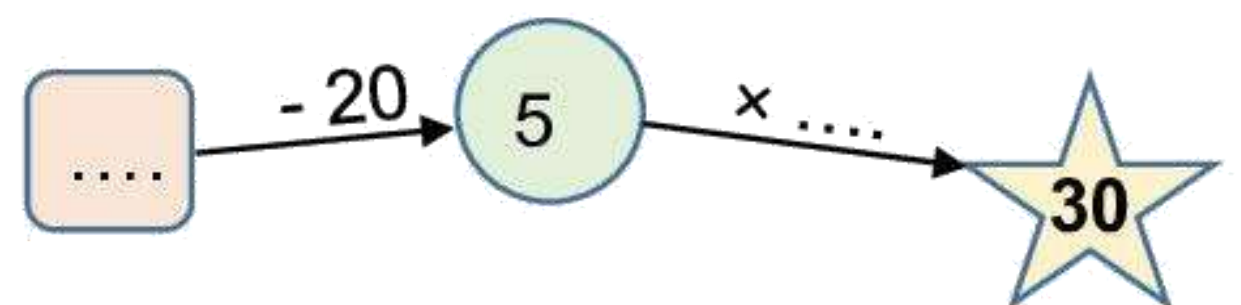
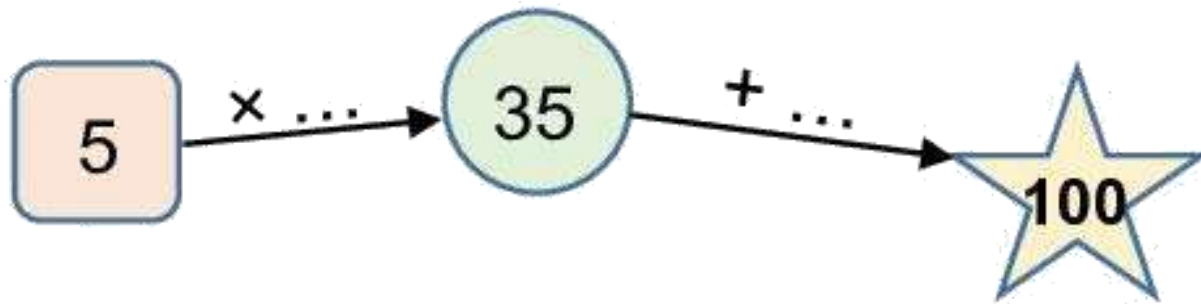
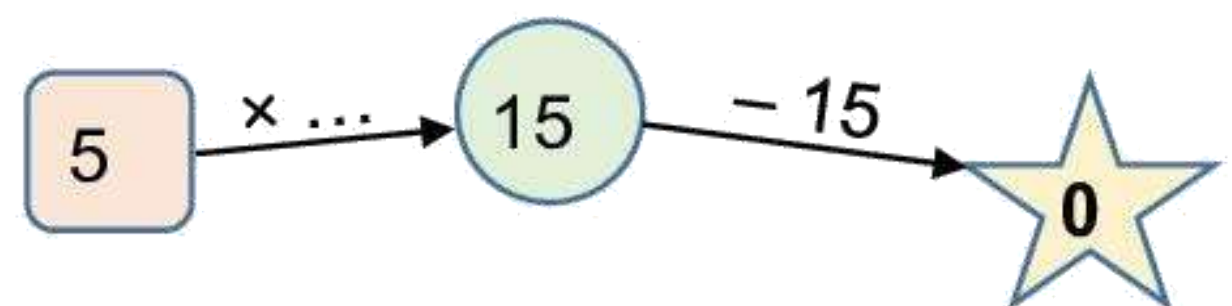
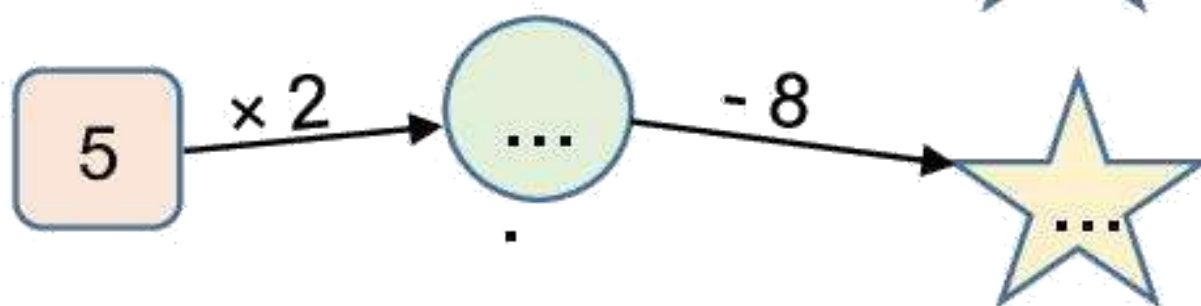
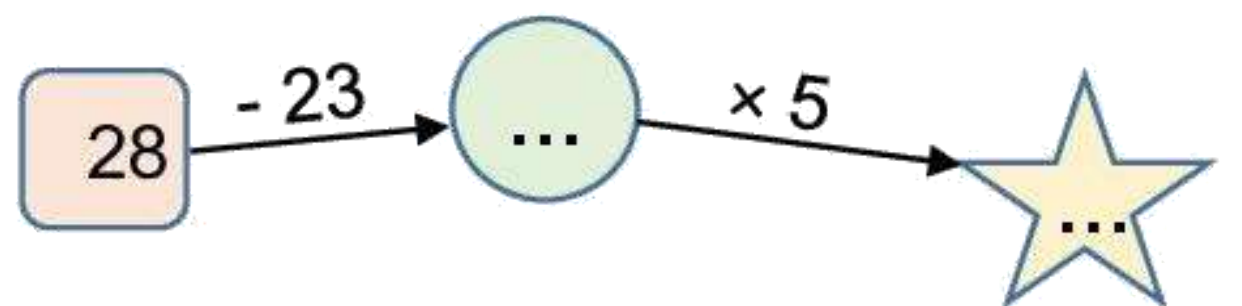
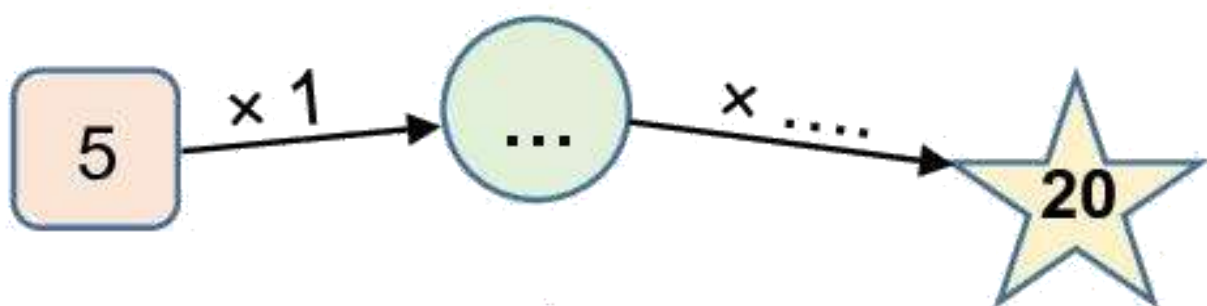
$5 \times 1 \square 2 \times 3$

.....

$10 \times 2 \square 5 \times 4$

.....

**Bài 3:** Viết số thích hợp vào chỗ chấm



**Bài 4:** Có 25 học sinh xếp thành các hàng, mỗi hàng có 5 bạn. Hỏi xếp được bao nhiêu hàng như thế?

**Bài giải**

.....  
.....  
.....

**Bài 5:** Năm nay con 5 tuổi, tuổi bố bằng tuổi con nhân với 6. Hỏi năm nay bố bao nhiêu tuổi?



**Bài giải**

.....  
.....  
.....  
.....

**Bài 5:** Lan trồng được 5 cây hoa. Số cây chị Dịu trồng được bằng số cây của Lan trồng được nhân với 3. Hỏi chị Dịu trồng được bao nhiêu cây hoa?

**Bài giải**

.....  
.....  
.....  
.....



**Bài 6\*:** Mẹ cho Mai 15 cái kẹo, bố cho Mai thêm 3 cái kẹo nữa. Mai chia số kẹo đó thành hai phần bằng nhau và cho bé Bông một phần. Hỏi mỗi phần có bao nhiêu cái kẹo?

**Trả lời:** Mỗi phần có.....cái kẹo.

**Bài 7\*:** Bình lấy một mảnh giấy cắt ra làm năm mảnh nhỏ. Từ mỗi mảnh nhỏ Bình lại cắt thành hai mảnh nhỏ nữa. Hỏi sau khi cắt, Bình có tất cả bao nhiêu mảnh giấy?

**Trả lời:** Sau khi cắt, Bình có tất cả ... mảnh giấy.



 Thư viện tiểu học - Ươm mầm tương lai

😄  
 😊  
 😞

.....  
.....